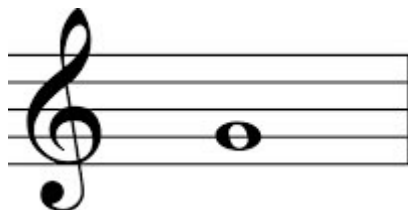


# 1. ročník / 1. čtvrtletí – Test 1


Jméno a příjmení:

Jak se jmenuje tato nota?



- e 1
- f 1
- g 1
- a 1

Jak se jmenuje tato nota?

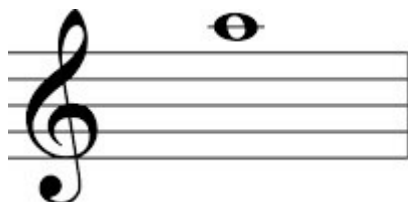


- c 2
- h 1
- d 2
- e 2

Který tón se nachází hned pod c2?

- h 2
- h malé
- d 1
- d 2
- h 1

Jak se jmenuje tato nota?



- c 2
- h 2
- a 2
- g 2

Označ notu půlovou:



Na kolik dob počítáme půlovou notu?

- na 1
- na půl
- na 2
- na 4

Na kolik dob počítáme celou notu?

- na 2
- na 1
- na 4
- na 3

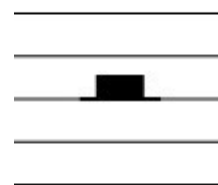
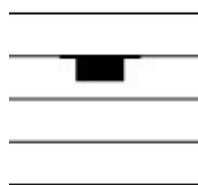
Na kolik dob počítáme osminovou notu?

- na 4
- na 2
- na půl
- na 8


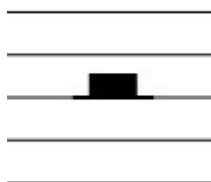
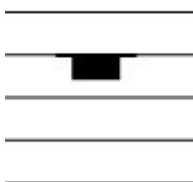
Na kolik dob počítáme notu půlovou s tečkou?

- na 2
- na 3
- na 6
- na 4


Označ pomlku čtvrt'ovou:



Označ pomlku půlovou:



Na kolik doby je tento takt?



- na 2 doby
- na 4 doby
- na 3 doby

Na kolik doby je tento takt?



- na 3 doby
- na 2 doby
- na 4 doby

Na kolik doby je tento takt?



- na 3 doby
- na 4 doby
- na 2 doby

Co znamená v hudbě allegro?

- mírně
- rychle
- pomalů
- zrychlovat

Co znamená v hudbě andante?

- mírně
- zvolna, krokem
- zpomalovat
- rychle

Které tempo je nejrychlejší?

- andante
- allegro
- moderato