


# 1. ročník / 1. čtvrtletí – Test 2

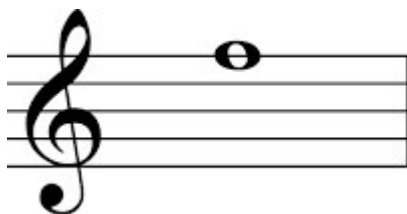
Jméno a příjmení:

Jak se nazývá tato nota?



g 1  
h 1  
a 1  
c 2

Jak se nazývá tato nota?



e 2  
f 2  
f 1  
g 2

Který tón se nachází hned pod h1?

g 1  
a 1  
c 1  
c 2

Jak se jmenuje tato nota?



c 2  
a 2  
c 3  
h 2

Označ notu čtvrtřovou:



Na kolik dob počítáme půlovou notu?

- na 4
- na 2
- na půl
- na 1

Na kolik dob počítáme čtvrtovou notu?

- na 3
- na 4
- na 1
- na 2

Kolik osminových not se vejde do jedné čtvrtové noty?

- 2
- 4
- půl
- 8

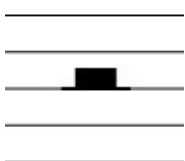
Co dělá tečka za notou?

- zkracuje notu o polovinu
- prodlužuje notu o polovinu
- je to staccato - hrajeme krátce

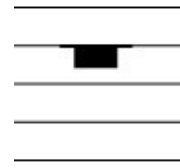
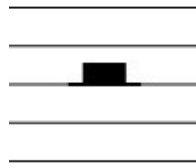
Kolik čtvrtových not se vejde do noty půlové s tečkou?

- 4
- 6
- 2
- 3


Označ pomlku celou:



Označ pomlku půlovou:



Na kolik dob je tento takt?



- na 4 doby
- na 2 doby
- na 3 doby

Na kolik dob je tento takt?



- na 4 doby
- na 3 doby
- na 2 doby

Co znamená v hudbě moderato?

- pomalu
- mírně
- rychle
- zrychlovat

Označ pomalejší tempo:

- andante
- allegro