

1. ročník / 3. čtvrtletí – Test 2

Jméno a příjmení:

Co je to půltón?

nejmenší vzdálenost mezi dvěma tóny

akord

vzdálenost od c1 do c2

Co je to celý tón?

nejmenší vzdálenost mezi dvěma tóny

největší vzdálenost mezi dvěma tóny

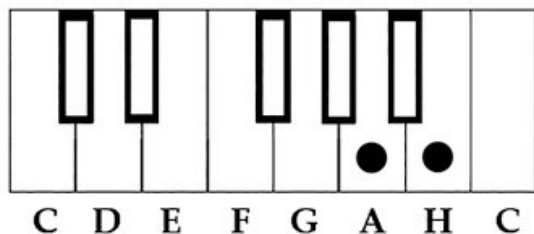
vzdálenost dvou půltónů

Tato vzdálenost je:



oktáva
celý tón
půltón

Tato vzdálenost je:



celý tón
půltón
něco ještě jiného

Které tóny tvoří půltón?

c-d

d-e

e-f

f-g

Tato vzdálenost je:



celý tón
půltón
něco ještě jiného

Kolik je půltónů v durové stupnici?

3
2
8
1

Jak se nazývá tato nota?




eis1
des1
dis1
d1

Jak se nazývá tato nota?




as1
a1
es1
ais1

Označ notu a2 půlovou:



Jak se nazývá tato nota?



es1
eis2
e2
es2

Jak se nazývá tato hudební značka?



staccato
koruna
ligatura

Co dělá tato značka?



zkracuje notu
prodlužuje notu libovolně
zesiluje notu
nic, je jen pro ozdobu

Ligatura je:

prodloužení noty pomocí obloučku o další notu stejné výšky
zkrácení noty, značí se tečkou pod notou
způsob hry vázáně

V tomto taktu je:



legato
ligatura
staccato
koruna

V tomto taktu je:



legato
ligatura
staccato
koruna

Mezzoforte znamená:

velmi silně
velmi slabě
středně silně
zesilovat

Pianissimo znamená:

středně slabě
velmi silně
velmi slabě
slabě