

## 2. ročník / 4. čtvrtletí - Test 2

Jméno a příjmení:

Basový klíč se používá pro notový zápis:

všech tónů - vysokých a hlubokých

hlubokých tónů

vysokých tónů

Basový klíč se jmenuje také:

klíč F

klíč C

klíč G

Která oktáva se nachází nejhlouběji?

velká

malá

jednočárkovaná

Noty v které z těchto oktáv zní nejvýš?

velké

jednočárkované

malé

Kde leží nota c1 v basovém klíči?

na první pomocné lince pod osnovou


na první pomocné lince nad osnovou

v druhé mezeře

na 2. lince

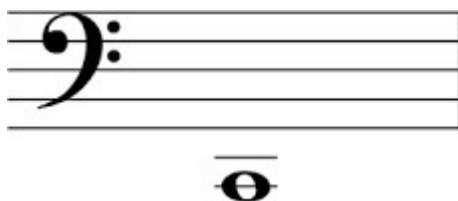
na 4. lince

Jak se jmenuje tato nota?




- c malé
- D velké
- d malé
- C velké
- c 1

Jak se jmenuje tato nota?



- c malé
- c 1
- H velké
- C velké
- h malé

Jak se jmenuje tato nota? Napiš.



Jak se jmenuje tato nota? Napiš.



Který tón se nachází pod c1?

- H velké
- h malé
- d 1
- C velké
- d malé
- c malé

Která nota se nachází pod c malým?

h malé

d malé

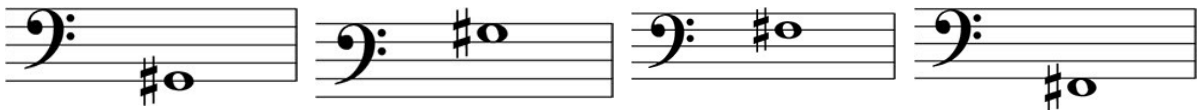
c malé

H velké

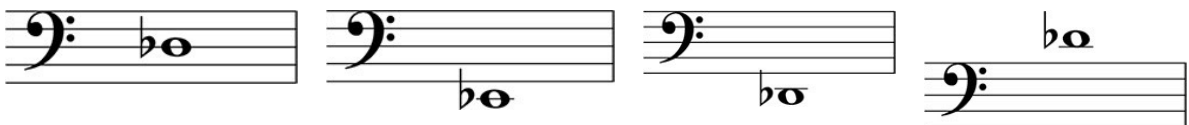
C velké

d 1

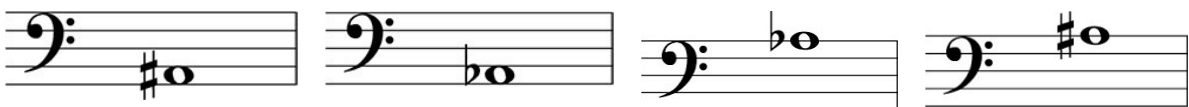
Označ notu Fis:



Označ notu des:



Označ notu As:



Které nástroje hrají v basovém klíči? Označ tři.

hoboj

trubka

fagot

klarinet

violoncello

trombon

-