

4. ročník / 1. čtvrtletí - Test 2

Jméno a příjmení:

Která oktáva se nachází nejhlouběji?

- malá
- subkontra
- velká
- kontra

Noty v které z těchto oktáv zní nejvýš?

- kontra
- velká
- subkontra
- malá

Kde leží nota C velké v basovém klíči?

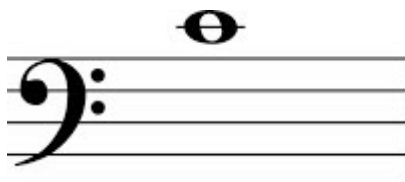
- na první pomocné lince pod osnovou
- v druhé mezeře
- na druhé pomocné lince pod osnovou
- na první pomocné lince nad osnovou

Jak se jmenuje tato nota?



- E velké
- c 2
- e malé
- c malé
- e 1


Jak se jmenuje tato nota?




- H velké
- C velké
- c malé
- h malé
- c 1

Přiřaď noty ke správným oktávám: (malá, velká, jednočárkovaná atd.)

1. 2. 3. 4. 5. 6.



Jak se jmenuje tato nota? Napiš.



.....

Jak se jmenuje tato nota? Napiš jedno písmeno správné velikosti.



.....


Který tón se nachází hned pod c malým?

- d malé
- h malé
- H velké
- D velké
- h 1


Která nota se nachází hned pod C kontra?

- H velké
- h malé
- h1
- H subkontra
- H kontra


Označ notu E velké:



Označ notu b malé:



Označ notu As1= As kontra:



Kdo má větší rozsah?

mužský hlas bas - zpívá přibližně od E velkého do e1
kontrabas - hraje přibližně od E kontra do c2
tuba - hraje přibližně od D kontra do d1