

5. ročník / 1. čtvrtletí - Test 1

Jméno a příjmení:

Basový klíč se jmenuje také:

- C klíč
- F klíč
- G klíč

Která oktáva se nachází nejhluběji?

- velká
- subkontra
- malá
- kontra


Noty v které z těchto oktáv zní nejvýš?

- velká
- malá
- jednočárkovaná
- kontra

Kde leží nota c1 v basovém klíči?

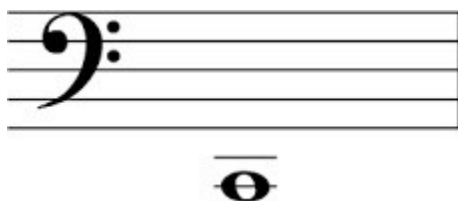
- a první pomocné lince nad osnovou
- v druhé mezeře
- na 2. lince
- na první pomocné lince pod osnovou
- na 4. lince

Jak se jmenuje tato nota?




- c 1
- D velké
- c malé
- C velké
- d malé

Jak se jmenuje tato nota?




- H velké
- c malé
- h malé
- C velké
- c 1

Přiřaď noty ke správným oktávám:


1.	2.	3.	4.	5.	6.	1. nota
						2. nota
						3. nota
						4. nota
						5. nota
						6. nota

Jak se jmenuje tato nota? Napiš. (Stačí napsat jedno písmeno správné velikosti)



napiš:

Jak se jmenuje tato nota? Napiš. (Stačí napsat jedno písmeno)



napiš:

Který tón se nachází hned pod c1?

- d malé
- h malé
- c malé
- C velké
- H velké
- d 1

Která nota se nachází hned pod C velkým?

- h malé
- h jednočárkované
- H kontra
- H velké
- H subkontra


Označ notu Fis velké:



Označ notu des malé:



Označ notu As1= As kontra:



Které nástroje hrají v basovém klíči? Označ tři.

- trubka
- trombon
- violoncello
- klarinet
- hoboj
- fagot

-