

5. ročník / 1. čtvrtletí - Test 2

Jméno a příjmení:

Která oktáva se nachází nejhlouběji?

- velká
- subkontra
- kontra
- malá

Noty v které z těchto oktáv zní nejvýš?

- subkontra
- malá
- kontra
- velká

Kde leží nota C velké v basovém klíči?

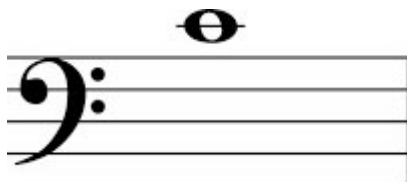
- v druhé mezeře
- na druhé pomocné lince pod osnovou
- na první pomocné lince nad osnovou
- na první pomocné lince pod osnovou

Jak se jmenuje tato nota?



- c 2
- e malé
- e 1
- E velké
- c malé


Jak se jmenuje tato nota?



- h malé
- H velké
- c malé
- C velké
- c 1

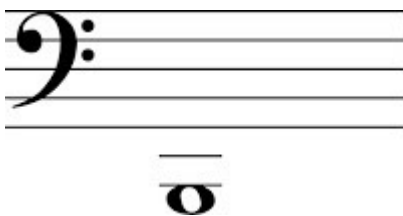
Přiřaď noty ke správným oktávám:

1.	2.	3.	4.	5.	6.	1. nota
----	----	----	----	----	----	---------



2. nota
3. nota
4. nota
5. nota
6. nota

Jak se jmenuje tato nota? Napiš.



napiš:

Jak se jmenuje tato nota? Napiš jedno písmeno správné velikosti.



napiš:

Který tón se nachází hned pod c malým?

- h 1
- h malé
- D velké
- d malé
- H velké


Která nota se nachází hned pod C kontra?

- H kontra
- h malé
- H velké
- H subkontra
- h1


Označ notu E velké:



Označ notu b malé:



Označ notu As1= As kontra:



Kdo má větší rozsah?

kontrabas - hraje přibližně od E kontra do c2

tuba - hraje přibližně od D kontra do d1

mužský hlas bas - zpívá přibližně od E velkého do e1

-