


5. ročník / 2. čtvrtletí - Test 1

Jméno a příjmení:

Označ intervaly, které mohou být malé:

prima
sekunda
tercie
kvarta
kvinta
sexta
septima
oktáva

Jaký je to interval?




malá sexta
velká sexta
malá septima
velká septima

Čistá kvarta nahoru od tónu e1 je:


a) f1
b) g1
c) a1
d) b1

Která tercie je velká?



první
druhá
třetí
čtvrtá


Která kvarta je čistá?



a)
b)
c)
d)


Která sexta je malá?

a) b) c) d) e)




a)
b)
c)
d)
e)

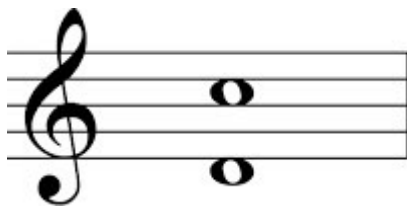
Označ dvě čisté kvinty:



Označ dvě malé sekundy:

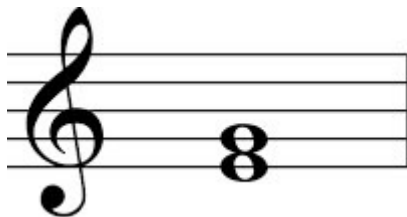


Jaký je to interval?



čista oktáva
čistá septima
velká septima
velká sexta
malá septima

Jaký je to interval?



zvětšená tercie
velká tercie
čistá tercie
malá tercie

Označ všechny malé sexty:

